

Division


Par dessin

$$132 \div 3 = ?$$

J'illustre le nombre demandé avec les centaines, dizaines ou unités.

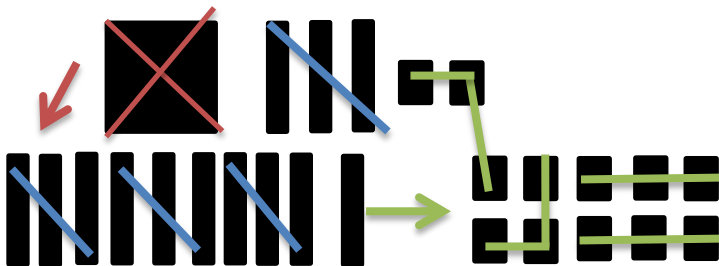
$$132 = \blacksquare \quad ||| \quad \blacksquare \quad \blacksquare$$

Je dessine le nombre de paquet selon le diviseur.



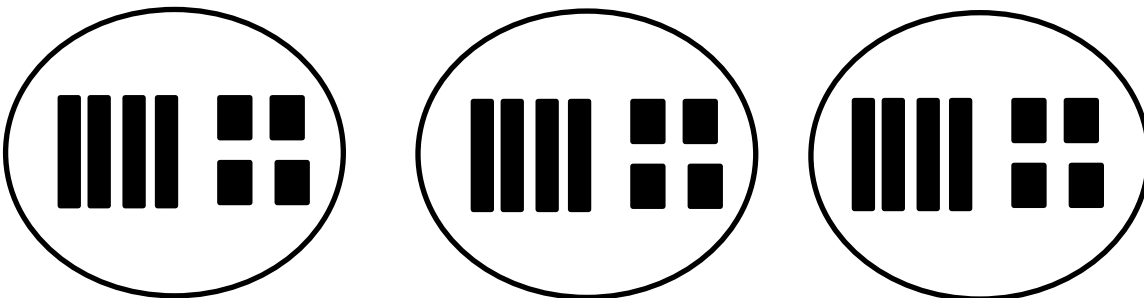
Je dois partager le nombre illustré selon le diviseur.

Ma centaine ne peut pas être partagée en 3. Je dois la séparer en dizaines.



Je peux maintenant partager toutes les dizaines dans mes 3 paquets.

Il me reste une dizaine alors je vais la séparer en unités. Je vais aller les placer dans mes 3 paquets.



Dans un paquet il y a 4 dizaines et 4 unités. La réponse est 44