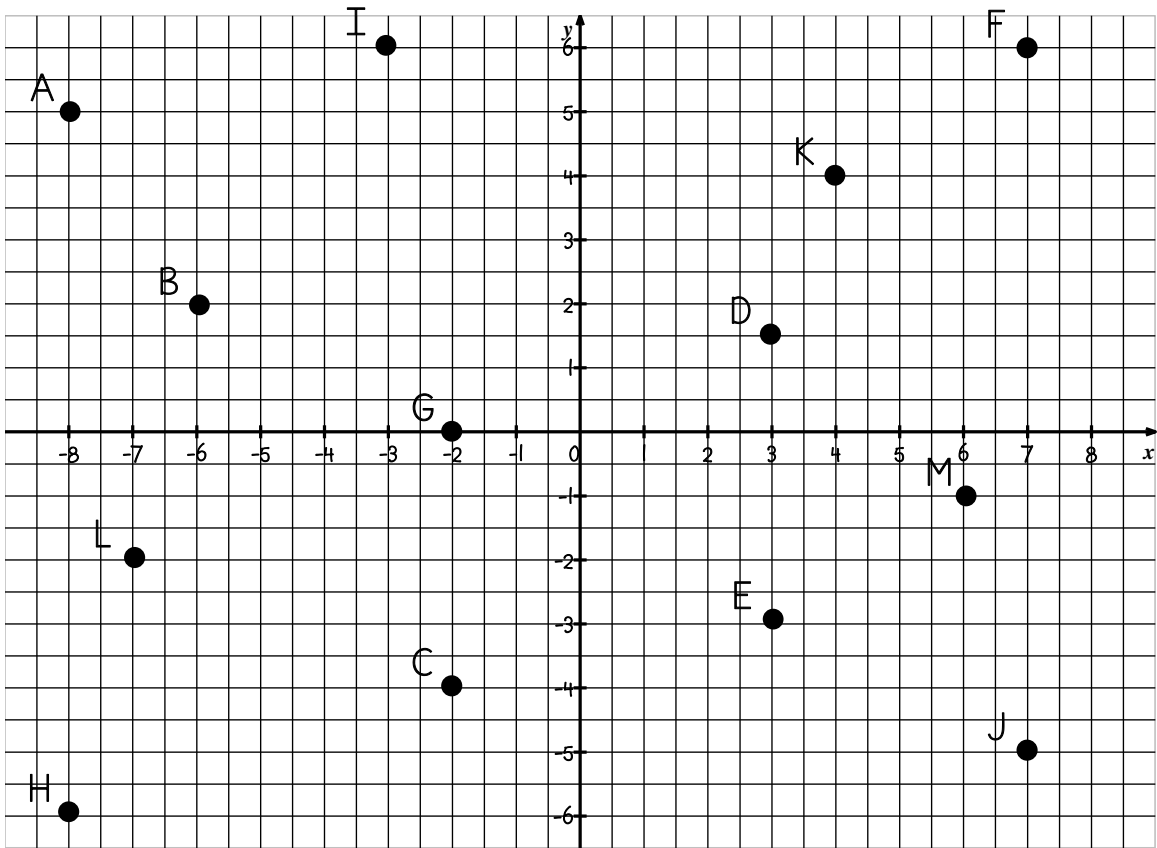


Couples en folie!



1. Indique les coordonnées des points suivants :

B : _____

H : _____

C : _____

M : _____

L : _____

A : _____

2. Quelle lettre est à la position suivante?

(4, 4) : _____

(-3, 6) : _____

(7, -5) : _____

(3, -3) : _____

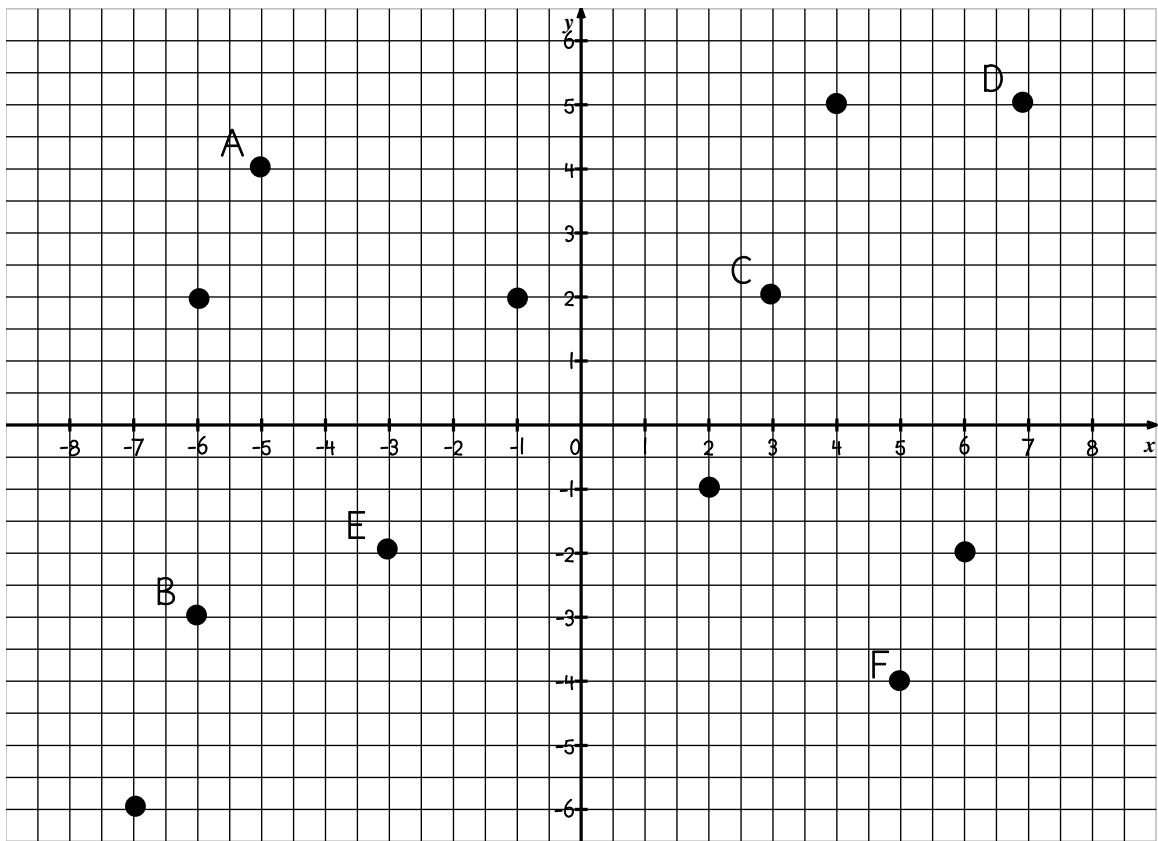
(-2, 0) : _____

(3, 1) : _____


(6, 7) : _____


(6, -1) : _____







3. Place les symboles sur les bonnes coordonnées.


 : (-6, 2)

 : (-7, -6)

 : (2, -1)

 : (-1, 2)

 : (6, -2)

 : (4, 5)

4. Quelle est la lettre correspondante aux coordonnées suivantes:

(5, -4) : _____

(-5, 4) : _____

(3, 2) : _____

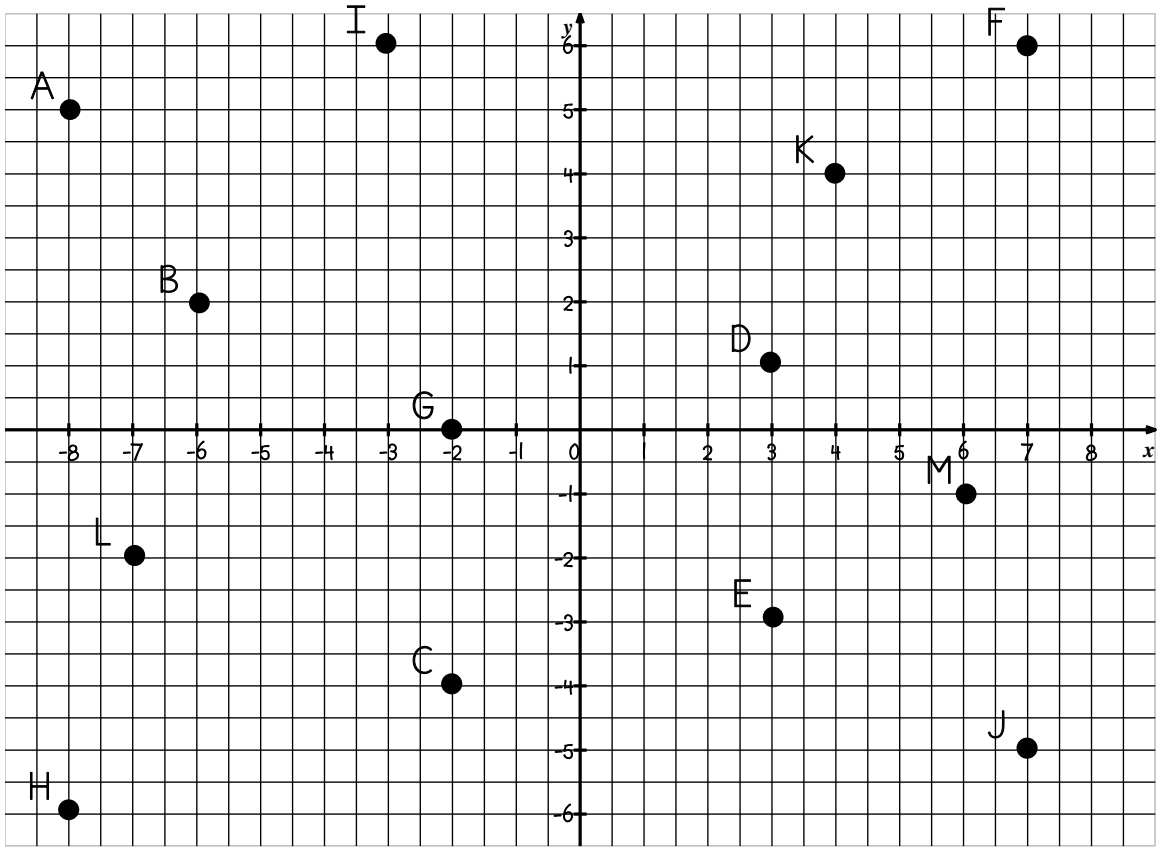
(-3, -3) : _____

(-6, -3) : _____

(7, 5) : _____



Couple en folie!



1. Indique les coordonnées des points suivants :

B : (-6, 2)

H : (-8, -6)

C : (-2, -4)

M : (6, -1)

L : (-7, -2)

A : (-8, 5)

2. Quelle lettre est à la position suivante?

(4, 4) : K

(-3, 6) : I

(7, -5) : J

(3, -3) : E

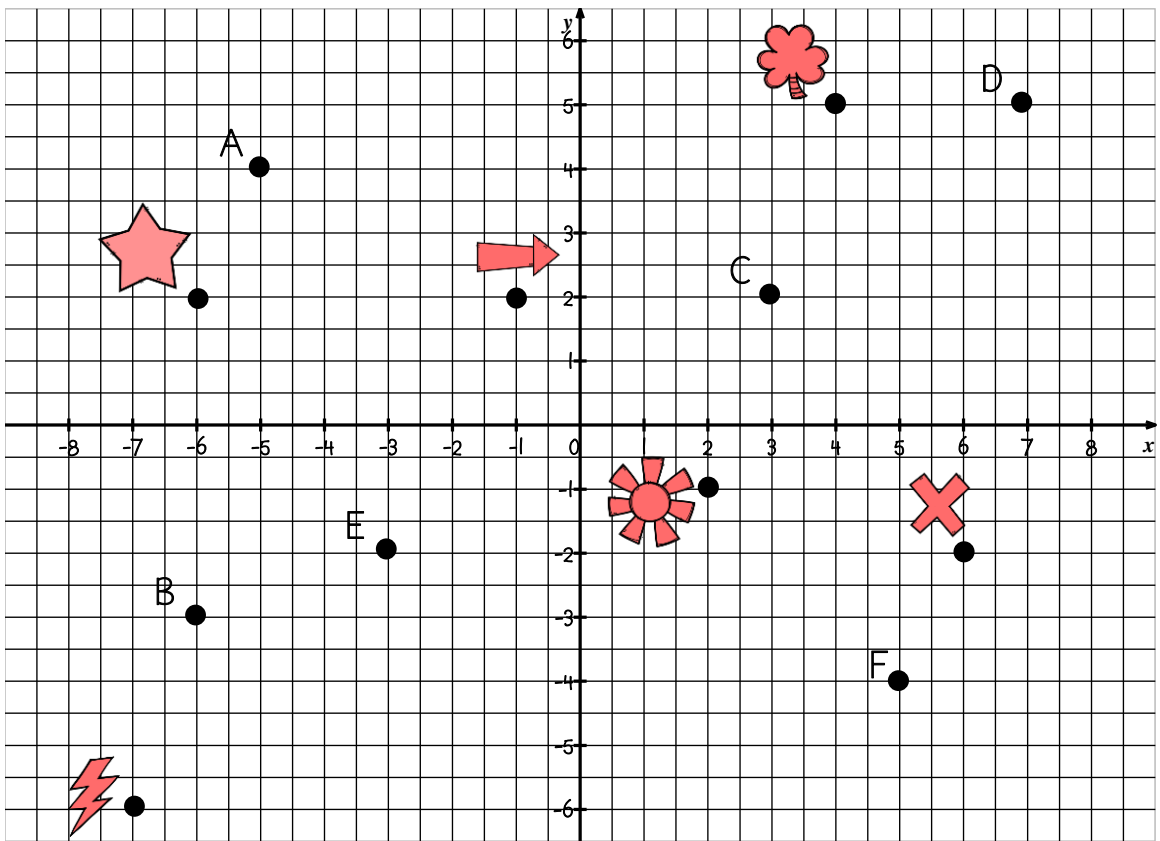
(-2, 0) : G

(3, 1) : D


(7, 6) : F


(6, -1) : M







3. Place les symboles sur les bonnes coordonnées.


 : (-6, 2)

 : (-7, -6)

 : (2, -1)

 : (-1, 2)

 : (6, -2)

 : (4, 5)

4. Quelle est la lettre correspondante aux coordonnées suivantes:

(5, -4) : F

(-5, 4) : A

(3, 2) : C

(-3, -2) : E

(-6, -3) : B

(7, 5) : D

