


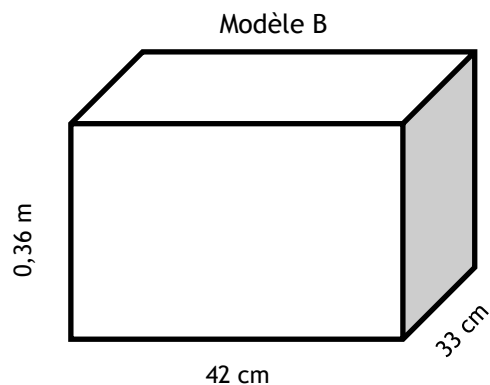
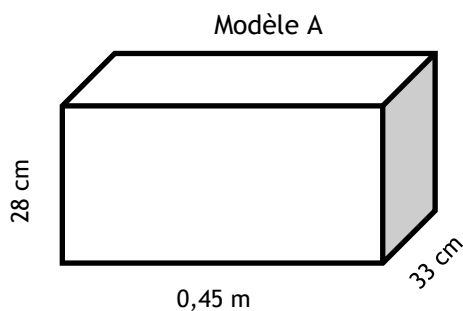
Le cercle de lecture

Une enseignante a commandé à la librairie du quartier 25 exemplaires d'un même roman afin de vivre un cercle de lecture avec ses élèves. À la librairie, le responsable des livraisons se demande quelles boîtes choisir afin d'expédier les livres dans une seule boîte.

Format du roman



Modèles de boîte



La librairie doit charger les frais de livraison qui se calcule selon la masse du colis.

- Un livre : 0,450 kg;
- Boîte A : 0,25 kg ;
- Boîte B : 750 g;
- Coût de livraison selon la masse : 1,99 \$ du kilogramme.

Quel montant sera chargé à l'école pour la livraison des livres?

Le cercle de lecture

Laisse des traces de ton raisonnement.

Les livres seront expédiés dans le ou les modèles de boîte _____ au coût de _____.
